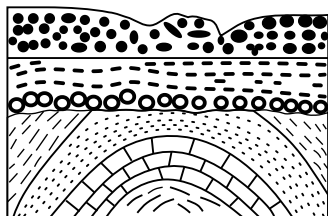


نام و نام خانوادگی:

نام آزمون: سوالات زمین شناسی یازدهم عید ۱۴۰۲

امام مهدی عج




۱ تاریخچه فرضی شکل زیر از قدیم به جدید کدام است؟

- ۱ رسوب گذاری، چین خوردگی، پس روی دریا، پیش روی دریا و رسوب گذاری جدید.
- ۲ رسوب گذاری، چین خوردگی، فرسایش، پیش روی دریا و رسوب گذاری جدید، پس روی دریا و فرسایش.
- ۳ چین خوردگی و خروج از آب، فرسایش، پیش روی دریا و رسوب گذاری جدید، چین خوردگی جدید.
- ۴ رسوب گذاری، خروج از آب، فرسایش، پیش روی دریا و رسوب گذاری، پس روی دریا و فرسایش.


۲ شکل کهکشانی که منظومه خورشیدی در آن جای دارد، به کدام شکل نزدیک تر است؟



۴



۳



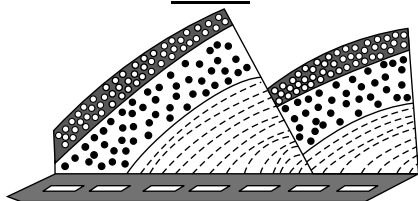
۲



۱

۳ شکل زیر برش کوهی در کنار یک جاده را نشان می دهد، نوع تنش های تأثیرگذار اصلی برای تشکیل آن به ترتیب از قدیم به جدید

کدام اند؟



۴ فشاری، کششی

۳ کششی، برشی

۲ برشی، کششی

۱ کششی، فشاری

۴ کدام یک از دانشمندان زیر معتقد بود که زمین در مرکز عالم قرار دارد؟

۴ کوپرنیک

۳ بطلموس

۲ کپلر

۱ گالیله

۵ یک واحد ستاره شناسی عبارت است از

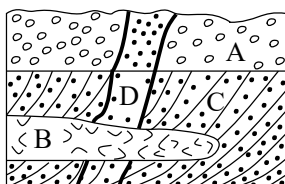
۲ فاصله متوسط یک سیاره تا خورشید

۱ فاصله خورشید تا سیاره زمین

۴ فاصله نزدیک ترین سیاره تا زمین

۳ فاصله نزدیک ترین سیاره تا خورشید

۶ سن نسبی لایه های رسوبی و توده های آذرین شکل زیر (از قدیم به جدید)، کدام است؟



۴ B, D, A, C

۳ D, B, A, C

۲ D, A, B, C

۱ B, D, C, A

۷ ترتیب دوره های زمانی زمین شناسی از قدیم به جدید در کدام گزینه رعایت نشده است؟

۴ کرتاسه - تریاس - ژوراسیک

۳ اردوویسین - سیلورین - دونین

۲ کربونیفر - پرمین - تریاس

۱ دونین - کربونیفر - پرمین


۸ در شکل زیر کدام گسل قابل تشخیص است؟

۲ قائم

۱ عادی

۴ امتداد لغز

۳ معکوس



۹ کدام گزینه با «ویژگی و نوع برش» در تصویر زیر، مطابقت دارد؟



امام مهدی عج

۱. در احداث جاده در بخش زیراساس چه موادی مورد استفاده قرار می گیرند؟

۴. شن و ماسه

۳. بالاست

۲. رس و سنگ شکسته

۱. شن و سنگ شکسته